

【令和4年10月23日】

総合旅行業務取扱管理者試験問題用紙

第2時限目	受験区分 (受験番号の頭の アルファベット)	試験時間	受験科目	問題用紙
	A、G	13:30～15:30 (120分)	③国内旅行実務	1頁～16頁
			④海外旅行実務	17頁～37頁 資料編 1頁～6頁
	B、H	13:30～14:10 (40分)	③国内旅行実務	1頁～16頁
	C、E	13:30～14:50 (80分)	④海外旅行実務	17頁～37頁 資料編 1頁～6頁

※※ 注 意 ※※

- 開始の合図があるまで、問題用紙は開かないでください。
- |  |
|--|
| <p>受験区分が A、G の受験者は、③国内旅行実務と④海外旅行実務を解答してください。<br/>                     受験区分が B、H の受験者は、③国内旅行実務を解答してください。<br/>                     受験区分が C、E の受験者は、④海外旅行実務を解答してください。</p> |
|--|
- 解答用紙の解答欄は、左側が③国内旅行実務、右側が④海外旅行実務となります。
- 解答は問題の指示に従い、解答用紙の解答欄にマークしてください。
- 頁の欠落や印刷の不鮮明なものがありましたら、着席したまま手を挙げてください。  
問題の内容に関する質問にはお答えできません。
- 試験問題の配点は、問題用紙及び解答用紙に明示しています。
- 試験問題、資料等一部試験用に設定された箇所があります。
- 本試験問題は、特段のことわりのない限り、原則として令和4年8月1日を基準として作成しています。
- 取り消し、払い戻し（もどし）等に関する設問については、通常時における取り扱いを問うものとして出題しております。
- 出題の根拠となる法令・規則に関しては、令和4年8月1日現在施行、有効なものとしします。
- 本年度の合格基準については、試験結果発表時（令和4年12月13日予定）に受験者に郵送で通知します。なお、受験者個人の解答状況及び得点等に関してはお答えできません。
- 試験不合格者のうち、試験科目「国内旅行実務」「海外旅行実務」のそれぞれの科目の合格基準に達した人は、翌年度の試験に限り、合格基準に達した科目の受験を免除します。試験結果通知の際、試験不合格を通知するとともに、当該科目の合否についても通知をします。

### ③ 国内旅行実務

第1問 次の貸切バスの〔行程〕(抜粋)に関する以下の問1.～問2.の各設問について、該当するものをそれぞれの選択肢から一つ選び、解答用紙にマークしなさい。(地名等については、都道府県等の公式ホームページ、百科事典等を参考としている。) (配点 2点×2)

〔行程〕 ――――：貸切バス

○日目	羽咋 ―――― <input type="text" value="①"/> ―――― 見附島 ―――― 珠洲(昼食) ―――― 金剛崎 約15分 約80分 約20分 約40分
	――― 禄剛埼灯台 ―――― 奥能登塩田村 ―――― <input type="text" value="②"/> ―――― 輪島(泊) 約10分 約30分 約15分 約10分

問1. 海に突き出た岩盤にある、浸食によってぽっかりとあいた洞門で、能登金剛を代表する  に該当するものは、次のうちどれか。

- a. 巖門                      b. 鷹の巣岩                      c. ヤセの断崖                      d. 義経の舟隠し

問2. 世界農業遺産に登録された「能登の里山里海」を代表する景観として知られる  に該当するものは、次のうちどれか。

- a. 大山千枚田                      b. 白米千枚田                      c. 中山千枚田                      d. 丸山千枚田

第2問 以下の写真に関する問3.～問4.の各設問について、該当するものをそれぞれの選択肢から一つ選び、解答用紙にマークしなさい。(地名等については、都道府県等の公式ホームページ、百科事典等を参考としている。) (配点 2点×2)

問3. 両側を海に囲まれた独特の地形が眺望でき、写真の夜景が満喫できる展望台のある山は、次のうちどれか。

[写真]



- a. 稲佐山                      b. 函館山                      c. 藻岩山                      d. 六甲山

問4. 第二尚氏の一族を葬った墓で、「琉球王国のグスク及び関連遺産群」として世界文化遺産に登録されている写真の史跡は、次のうちどれか。

[写真]



- a. 浦添ようどれ                      b. 斎場御嶽                      c. 園比屋武御嶽                      d. 玉陵

第3問 以下の問5.～問18.の各設問について、該当するものをそれぞれの選択肢から一つ選び、解答用紙にマークしなさい。(地名等については、都道府県等の公式ホームページ、百科事典等を参考としている。) (配点 2点×14)

問5. 次の空欄に該当するものはどれか。

青森県と秋田県にまたがる[ ]は、新緑や紅葉の名所として知られ、その湖畔の子ノ口から焼山まで続く奥入瀬溪流には銚子大滝などがあり、溪流に沿って車道と遊歩道が整備されている。

- a. 猪苗代湖                      b. 十二湖                      c. 田沢湖                      d. 十和田湖

問6. 次の空欄に該当するものはどれか。

慈覚大師円仁が開山し、藤原氏二代基衡から三代秀衡の時代に多くの伽藍が造営された[ ]は、世界文化遺産に登録されており、現在、大泉が池を中心とする浄土庭園と平安時代の伽藍遺構がほぼ完全な状態で保存されている。

- a. 黒石寺                      b. 瑞巖寺                      c. 中尊寺                      d. 毛越寺

問7. 次の空欄に該当するものはどれか。

奥飛騨温泉郷のひとつ[ ]は、岐阜県と長野県を結ぶ安房トンネルの岐阜県側の玄関口に位置し、乗鞍、上高地、高山などの観光地を結ぶ交通の要所としてバスターミナルがある。

- a. 新穂高温泉                      b. 栃尾温泉                      c. 平湯温泉                      d. 福地温泉

問8. 次の空欄に該当するものはどれか。

京都の奥座敷といわれる[ ]は、川沿いに並ぶ飲食店の川床が夏の風物詩として知られ、和泉式部が参詣し不和となった夫との復縁を祈願し、その願いが成就した逸話が残る神社がある。

- a. 大原                      b. 貴船                      c. 嵯峨野                      d. 高雄

問9. 次の空欄に該当するものはどれか。

大阪三大夏祭りのひとつといわれる[ ]は、本宮の夜、大川(旧淀川)に多くの船が行き交う船渡御が行われ、大川に映る篝火や提灯灯り、奉納花火が上がることから、火と水の祭典とも呼ばれている。

- a. 愛染祭                      b. 葵祭                      c. 天神祭                      d. 岸和田だんじり祭り

問10. 次の空欄に該当するものはどれか。

古くから潮待ちの港として栄え、万葉集にも詠まれた福山市の□□□□は、雁木に立つ常夜燈が代表的な景観として知られ、町並みは国の伝統的建造物群保存地区に選定されている。

- a. 三之瀬                      b. 下津井                      c. 軻の浦                      d. 御手洗

問11. 次の空欄に該当するものはどれか。

令和4年9月23日に開業した西九州新幹線は、辰野金吾が設計した朱塗りの楼門がある温泉の最寄り駅である□□□□駅と長崎駅間を最速23分で結んでいる。

- a. 嬉野温泉                      b. 雲仙温泉                      c. 小浜温泉                      d. 武雄温泉

問12. 次の下線部a.～d.のうち、誤っているものはどれか。

神奈川県の観光地等には、日本三大弁財天のひとつを祀る神社がある a. 江の島、源頼朝が天下泰平、国家安穩を祈願して催されたのが始まりとされる流鏝馬神事が行われる b. 鶴岡八幡宮、黒たまごで知られ、噴気が立ちのぼる火山活動を間近に見られる箱根の c. 大涌谷、実業家によって造られた日本庭園で、桜や紅葉の名所として知られる横浜の d. 六義園などがある。

問13. 次の下線部a.～d.のうち、誤っているものはどれか。

伊豆半島の観光地等には、実際に稼働した反射炉として現存する a. 韮山反射炉、一面草で覆われた円錐形の山で毎年2月には山焼きが行われる b. 大室山、狩野川の上流にあり演歌の歌詞でも知られる c. 浄蓮の滝、鎌倉二代将軍源頼家の墓や弘法大師空海ゆかりの独鈷の湯で知られる d. 伊東温泉などがある。

問14. 次の下線部a.～d.のうち、誤っているものはどれか。

滋賀県の観光地等には、宝厳寺と都久夫須麻神社がある琵琶湖の a. 竹生島、左義長まつりが行われる日牟禮八幡宮や水郷巡りで知られる b. 彦根、近江八景のひとつとして知られる梵鐘を吊る鐘楼がある c. 三井寺、びわ湖南西岸にあり、伝教大師最澄によって開湯されたと伝えられる d. おごと温泉などがある。

問15. 次の下線部a.～d.のうち、誤っているものはどれか。

香川県の観光地等には、小豆島にある日本三大溪谷美のひとつといわれる a. 寒霞溪、地中美術館がある b. 屋島、紫雲山を背景に池と築山を配した回遊式庭園の c. 栗林公園、三豊市にある海水浴場で、瀬戸内海の燧灘に沈む夕日が美しく、絶景スポットとして知られる d. 父母ヶ浜などがある。

問16. 次の下線部a.～d.のうち、誤っているものはどれか。

宮崎県の観光地等には、「鬼の洗濯板」で知られる a. 青島、霧島連山韓国岳の裾野に広がる b. 草千里、伊東氏5万1千石の城下町として栄え、小村寿太郎記念館がある c. 飫肥、県内最南端の岬で御崎馬を見ることができる d. 都井岬などがある。

問17. 次の郷土料理と観光地等との組合せのうち、同一都道府県のものでない組合せはどれか。

- a. ずんだ餅                      - 瑞鳳殿
- b. ひつまぶし                 - 香嵐溪
- c. 鶏飯                         - あやまる岬
- d. ゴーヤーチャンプルー - 昇竜洞

問18. 次の陶磁器と観光地等との組合せのうち、同一都道府県のものでない組合せはどれか。

- a. 益子焼 - 龍王峡
- b. 常滑焼 - 赤目四十八滝
- c. 出石焼 - 竹田城跡
- d. 萩焼 - 錦帯橋

第4問 以下の問19.～問20.の各設問について、該当するものをそれぞれの選択肢からすべて選び、解答用紙にマークしなさい。(地名等については、都道府県等の公式ホームページ、百科事典等を参考としている。) (配点 2点×2)

問19. 次の伝統行事と温泉地との組合せのうち、同一都道府県のものである組合せをすべて選びなさい。

- a. 信玄公祭り           - 石和温泉
- b. おわら風の盆       - 宇奈月温泉
- c. 山鹿灯籠まつり     - 黒川温泉

問20. 次の庭園と城との組合せのうち、同一都道府県にある組合せをすべて選びなさい。

- a. 縮景園 - 備中松山城
- b. 由志園 - 松江城
- c. 天赦園 - 宇和島城

第5問 宿泊に関する以下の問21.の設問について、該当するものを選択肢から一つ選び、解答用紙にマークしなさい。(配点 5点×1)

問21. 東京都にあるホテルにおいて、基本宿泊料が1泊室料27,000円(サービス料別・税金別)のトリプルルーム1室に大人3人が食事なしで1泊する場合、宿泊客が支払うべき宿泊料金等の総額で正しいものは次のうちどれか。

※モデル宿泊約款により算出するものとする。

※サービス料は10%とする。

※追加料金は発生しないものとする。

※東京都の宿泊税の税率

宿泊料金(1人1泊)	税率
10,000円未満	課税されない
10,000円以上15,000円未満	100円
15,000円以上	200円

- a. 基本宿泊料 27,000円 ..... ①  
 サービス料 27,000円×10%=2,700円 ..... ②  
 消費税 (27,000円+2,700円)×10%=2,970円 ..... ③  
 宿泊税 0円(課税されない) ..... ④  
 ①+②+③+④= 32,670円
- b. 基本宿泊料 27,000円 ..... ①  
 サービス料 27,000円×10%=2,700円 ..... ②  
 消費税 (27,000円+2,700円)×10%=2,970円 ..... ③  
 宿泊税 200円 ..... ④  
 ①+②+③+④= 32,870円
- c. 基本宿泊料 27,000円 ..... ①  
 サービス料 27,000円×10%=2,700円 ..... ②  
 消費税 (27,000円+2,700円)×10%=2,970円 ..... ③  
 宿泊税 100円×3人=300円 ..... ④  
 ①+②+③+④= 32,970円
- d. 基本宿泊料 27,000円 ..... ①  
 サービス料 27,000円×10%=2,700円 ..... ②  
 消費税 (27,000円+2,700円)×10%=2,970円 ..... ③  
 宿泊税 200円×3人=600円 ..... ④  
 ①+②+③+④= 33,270円

第6問 貸切バスに関する以下の問22.の設問について、該当するものを選択肢から一つ選び、解答用紙にマークしなさい。(配点 5点×1)

問22. 以下の行程(日帰り)を標準的装備の大型車で運行するとき、1台あたりの貸切バスの運賃及び料金の合計額で正しいものは次のうちどれか。

[行程]						
	回送 (30分)		旅客乗車走行・待機 (4時間30分)		回送 (30分)	
16:30		17:00		21:30		22:00
出庫		配車地		帰着地		帰庫
	14 km		70 km		14 km	

※「一般貸切旅客自動車運送事業の運賃・料金の変更命令について(平成26年3月26日付 関東運輸局長公示)」によるものとする。

※運賃は時間・キロ併用制運賃とする。

※時間制運賃(1時間あたり)7,000円とする。

※キロ制運賃(1kmあたり)170円とする。

※深夜早朝運行料金(1時間あたり)1,400円とする。

※運賃及び料金の割引、消費税の計算は行わないものとする。

a. 時間制運賃  $7,000 \text{円} \times 7 \text{時間} = 49,000 \text{円}$  ..... ①  
 キロ制運賃  $170 \text{円} \times 90 \text{km} = 15,300 \text{円}$  ..... ②  
 $\text{①} + \text{②} = \boxed{64,300 \text{円}}$

b. 時間制運賃  $7,000 \text{円} \times 7 \text{時間} = 49,000 \text{円}$  ..... ①  
 キロ制運賃  $170 \text{円} \times 90 \text{km} = 15,300 \text{円}$  ..... ②  
 深夜早朝運行料金  $1,400 \text{円} \times 1 \text{時間} = 1,400 \text{円}$  ..... ③  
 $\text{①} + \text{②} + \text{③} = \boxed{65,700 \text{円}}$

c. 時間制運賃  $7,000 \text{円} \times 8 \text{時間} = 56,000 \text{円}$  ..... ①  
 キロ制運賃  $170 \text{円} \times 100 \text{km} = 17,000 \text{円}$  ..... ②  
 $\text{①} + \text{②} = \boxed{73,000 \text{円}}$

d. 時間制運賃  $7,000 \text{円} \times 8 \text{時間} = 56,000 \text{円}$  ..... ①  
 キロ制運賃  $170 \text{円} \times 100 \text{km} = 17,000 \text{円}$  ..... ②  
 深夜早朝運行料金  $1,400 \text{円} \times 1 \text{時間} = 1,400 \text{円}$  ..... ③  
 $\text{①} + \text{②} + \text{③} = \boxed{74,400 \text{円}}$



第7問 フェリーの運送に関する以下の問23.の設問について、該当するものを選択肢から一つ選び、解答用紙にマークしなさい。(配点 5点×1)

問23. 大人2人(自動車の運転者1人を含む)、8歳の小学生1人、4歳の子供1人の計4人が、自動車1台(車長4m以上5m未満)でフェリーの1等船室(指定席)を4席利用して片道で乗船する場合、旅客が支払うべき運賃の総額で正しいものは次のうちどれか。

※海上運送法第9条第3項の規定に基づく標準運送約款によるものとする。

※旅客運賃(片道)は、下記のとおりとする。

1等 大人1人 5,170円、小児1人 2,590円

2等 大人1人 3,110円、小児1人 1,560円

※自動車航送運賃(片道)は、1台20,180円(車長4m以上5m未満)とする。


- a.  $5,170 \text{円} \times 1 \text{人} + 2,590 \text{円} \times 1 \text{人} + 20,180 \text{円} = 27,940 \text{円}$  27,940円
- b.  $5,170 \text{円} \times 1 \text{人} + (5,170 \text{円} - 3,110 \text{円}) \times 1 \text{人} + 2,590 \text{円} \times 1 \text{人} + 20,180 \text{円}$   
 $= 30,000 \text{円}$  30,000円
- c.  $5,170 \text{円} \times 1 \text{人} + 2,590 \text{円} \times 2 \text{人} + 20,180 \text{円} = 30,530 \text{円}$  30,530円
- d.  $5,170 \text{円} \times 1 \text{人} + (5,170 \text{円} - 3,110 \text{円}) \times 1 \text{人} + 2,590 \text{円} \times 2 \text{人} + 20,180 \text{円}$   
 $= 32,590 \text{円}$  32,590円


第8問 国内航空に関する以下の問24.～問25.の各設問について、該当するものをそれぞれの選択肢から一つ選び、解答用紙にマークしなさい。(配点 5点×2)


問24. 次の日本航空の各種運賃のうち、満11歳の旅客のみの航空券を予約する場合に適用されないものはどれか。

- a. 往復割引運賃
- b. 特便割引3
- c. 特便割引21
- d. スーパー先得運賃

問25. 以下のeチケットお客さま控の予約を旅客の都合により出発前に取り消しの連絡ができず、9月13日午前10時(出発後)に払い戻しをした場合、返金額で正しいものは次のうちどれか。

  
**JAPAN AIRLINES**

  
**eチケットお客さま控**  
ELECTRONIC TICKET ITINERARY/RECEIPT

1 OF 1  


---

**お名前** ジャタイチロウ 様  
NAME

※eチケットは「ご本人さまのみ有効」であり、名義人変更・譲渡・転売はできません。  
This e-ticket is valid only for the passenger above and is not transferable.

保安検査場、ご搭乗口で  
こちらのバーコードを  
かざしてください。  
Scan the above QR code at  
the security check and gate.

---

**旅程表/ITINERARY**

**予約番号**  
RESERVATION NUMBER **0A00A0**

**確認番号**  
CONFIRMATION NUMBER **0000 0A00**

---

<b>区間</b>	09月13日 13SEP	札幌/新千歳 NEW CHITOSE 08:25発 DEP	➔	仙台 SENDAI 09:30着 ARR
1	JAL2900	<small>座席 SEAT</small> 19A (窓側) 普通席 <small>運賃種別 (F/B)</small> ウルトラ先得 (XXXXXXXX)	<small>航空券有効期限</small> 2022年09月13日 <small>運賃額</small> ¥9,500	<small>※予約変更できません</small>

※券面額には新千歳空港の旅客施設使用料270円と仙台空港の旅客施設使用料230円が含まれている。

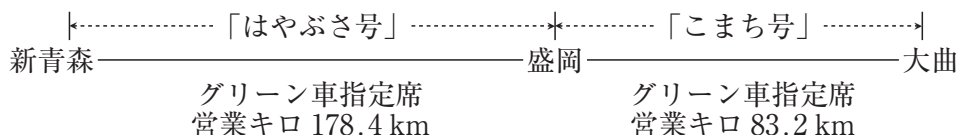
- a.  $(9,500 \text{ 円} - 270 \text{ 円} - 230 \text{ 円}) \times 90 \% = 8,100 \text{ 円}$   
 $9,500 \text{ 円} - 270 \text{ 円} - 230 \text{ 円} - 440 \text{ 円} - 8,100 \text{ 円} = 460 \text{ 円}$  460 円
- b.  $9,500 \text{ 円} \times 90 \% = 8,550 \text{ 円}$   
 $9,500 \text{ 円} - 8,550 \text{ 円} = 950 \text{ 円}$  950 円
- c.  $(9,500 \text{ 円} - 270 \text{ 円} - 230 \text{ 円}) \times 90 \% = 8,100 \text{ 円}$   
 $9,500 \text{ 円} - 440 \text{ 円} - 8,100 \text{ 円} = 960 \text{ 円}$  960 円
- d.  $(9,500 \text{ 円} - 270 \text{ 円} - 230 \text{ 円}) \times 90 \% = 8,100 \text{ 円}$   
 $9,500 \text{ 円} - 8,100 \text{ 円} = 1,400 \text{ 円}$  1,400 円

— 9 —

第9問 旅客鉄道（JR）に関する以下の問26.～問32.の各設問について、該当するものをそれぞれの選択肢から一つ選び、解答用紙にマークしなさい。（配点 5点×7）

問26. 以下の行程を大人1人が、通常期に新幹線の改札口を出ないで乗り継ぐ場合、料金の合計額で正しいものは次のうちどれか。

[行程]



【東北新幹線「はやぶさ号」の指定席特急料金（通常期）】（抜粋）

新青森	
3,170円	盛岡

【田沢湖線（盛岡～大曲間）の特急料金（通常期）】（抜粋）

営業キロ	50 km まで	100 km まで
指定席特急料金	（略）	1,660円

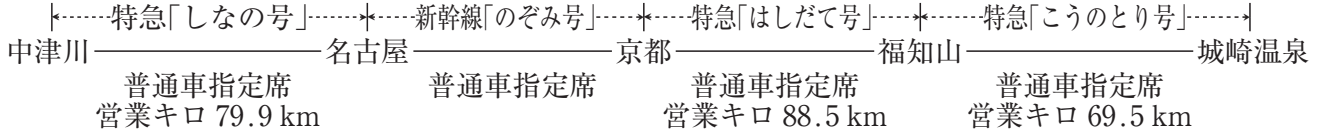
【JR東日本内相互発着区間のグリーン料金】（抜粋）

営業キロ	100 km まで	200 km まで	400 km まで
グリーン料金	1,300円	2,800円	4,190円

- a.  $(3,170円 - 530円) + (1,660円 - 530円) = 3,770円$  ..... ①  
 $2,800円 + 1,300円 = 4,100円$  ..... ②  
 ① + ② = 7,870円
- b.  $(3,170円 - 530円) + (1,660円 - 530円) = 3,770円$  ..... ①  
 $4,190円$  ..... ②  
 ① + ② = 7,960円
- c.  $(3,170円 - 530円) + 1,660円 = 4,300円$  ..... ①  
 $2,800円 + 1,300円 = 4,100円$  ..... ②  
 ① + ② = 8,400円
- d.  $(3,170円 - 530円) + 1,660円 = 4,300円$  ..... ①  
 $4,190円$  ..... ②  
 ① + ② = 8,490円

問27. 以下の行程を大人1人が、特急券を出発前に同時購入のうえ、通常期に同日中に乗り継ぐ場合、特急料金の合計額で正しいものは次のうちどれか。なお、福知山駅では改札口を出ないで乗り継ぐものとする。

[行程]



【JR東海のA特急料金（通常期）】（抜粋）

営業キロ	50 km まで	100 km まで
指定席特急料金	(略)	1,730 円

【東海道新幹線「のぞみ号」の指定席特急料金（通常期）】（抜粋）

名古屋	
3,270 円	京都

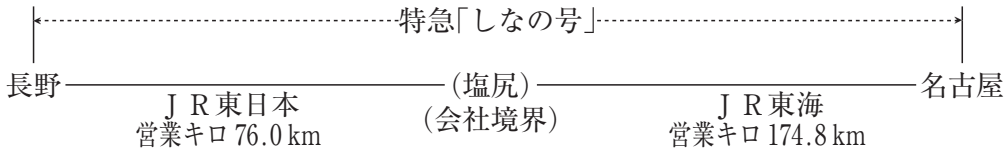
【JR西日本のB特急料金（通常期）】（抜粋）

営業キロ	50 km まで	100 km まで	150 km まで	200 km まで
指定席特急料金	(略)	1,520 円	(略)	2,290 円

- a. 1,730 円 ÷ 2 = 865 円 → 860 円 ..... ①  
 3,270 円 ..... ②  
 2,290 円 ÷ 2 = 1,145 円 → 1,140 円 ..... ③  
 ① + ② + ③ = 5,270 円
- b. 1,730 円 ..... ①  
 3,270 円 ..... ②  
 2,290 円 ÷ 2 = 1,145 円 → 1,140 円 ..... ③  
 ① + ② + ③ = 6,140 円
- c. 1,730 円 ÷ 2 = 865 円 → 860 円 ..... ①  
 3,270 円 ..... ②  
 1,520 円 ÷ 2 + 1,520 円 = 2,280 円 ..... ③  
 ① + ② + ③ = 6,410 円
- d. 1,730 円 ÷ 2 = 865 円 → 860 円 ..... ①  
 3,270 円 ..... ②  
 1,520 円 + 1,520 円 = 3,040 円 ..... ③  
 ① + ② + ③ = 7,170 円

問28. 大人1人が長野発名古屋行の特急「しなの号」の普通車指定席に、途中下車しないで乗車する場合の特急料金に関する次の記述のうち、正しいものはどれか。

[行程]



※長野～名古屋間の通算の営業キロは 250.8 km である。

J R 東日本のみを運転する  
在来線特急列車を利用する場合の  
シーズン別特急料金のカレンダー

2022年8月

日	月	火	水	木	金	土
	1	2	3	4	5	6
7	8	9	10	11	12	13
14	15	16	17	18	19	20
21	22	23	24	25	26	27
28	29	30	31			

J R 東日本と J R 東海とをまたがって運転する  
在来線特急列車を利用する場合の  
シーズン別特急料金のカレンダー

2022年8月

日	月	火	水	木	金	土
	1	2	3	4	5	6
7	8	9	10	11	12	13
14	15	16	17	18	19	20
21	22	23	24	25	26	27
28	29	30	31			

※同年同額の特急料金を適用している列車を除く。

通常期：  の期間      繁忙期：  の期間      最繁忙期：  の期間

【A特急料金（通常期）】

営業キロ	50 km まで	100 km まで	150 km まで	200 km まで	300 km まで
指定席特急料金	(略)	1,730 円	(略)	2,730 円	2,950 円

- 8月10日に長野～塩尻間を乗車した場合の特急料金は、1,730円 + 200円 = 1,930円である。
- 8月15日に長野～塩尻間を乗車した場合の特急料金は、1,730円 + 400円 = 2,130円である。
- 8月20日に塩尻～名古屋間を乗車した場合の特急料金は、2,730円である。
- 8月30日に長野～名古屋間を乗車した場合の特急料金は、2,950円である。



a.  $(379.2 \text{ km} - 15.9 \text{ km}) + 34.0 \text{ km} = 397.3 \text{ km}$  ..... 6,600 円 6,600 円

b.  $(379.2 \text{ km} - 15.9 \text{ km}) + 34.0 \text{ km} = 397.3 \text{ km}$  ..... 6,600 円 ..... ①  
6.2 km ..... 30 円 ..... ②  
① + ② = 6,630 円

c. 379.2 km ..... 6,380 円 ..... ①  
34.0 km ..... 590 円 ..... ②  
6.2 km ..... 30 円 ..... ③  
① + ② + ③ = 7,000 円

d. 379.2 km ..... 6,380 円 ..... ①  
 $15.9 \text{ km} + 34.0 \text{ km} = 49.9 \text{ km}$  ..... 860 円 ..... ②  
① + ② = 7,240 円

問30. 乗車券類の払いもどしに関する次の記述のうち、誤っているものはどれか。

- a. 特急「宗谷号」の1枚で発行された特急券・グリーン券を、出発日の2日前に払いもどす場合の払いもどし手数料は、特急料金にはかからず、グリーン料金に対してのみ340円かかる。
- b. 特急「成田エクスプレス号」の座席未指定券を、券面表示の乗車日の前日に払いもどす場合の払いもどし手数料は、340円である。
- c. 特急「ソニック号」の指定席特急券（券面額1,130円）を、出発日の前日に払いもどす場合の払いもどし手数料は、340円である。
- d. 出発日の前日にいったん変更した新幹線「のぞみ号」の指定席特急券（券面額5,810円）を、変更後の出発日の3日前に払いもどす場合の払いもどし手数料は、340円である。

問31. 「青春18きっぷ」の取扱いに関する次の記述のうち、誤っているものはどれか。

- a. きっぷは1券片制で、5回（人）まで利用できる。
- b. 特急列車の普通車指定席を利用する場合、指定席特急券のほか、別に乗車券が必要である。
- c. 普通・快速列車のグリーン車自由席は、グリーン券を別に購入すれば利用できる。
- d. 1回（人）分で、小児2人が利用できる。

問32. 交通新聞社発行JR時刻表（2022年5月号より抜粋）に関する次の記述のうち、正しいものはどれか。

- a. 快速「マリライナー66号」には、普通車・グリーン車ともに指定席と自由席がある。
- b. 特急「サンライズ瀬戸号」は、宇野駅を通過する。
- c. 新居浜駅20時40分発の特急「いしづち102号」に乗り継ぐと、茶屋町駅へ最も早く到着するように乗り継ぐと、茶屋町駅到着時刻は22時22分である。
- d. 琴平駅21時14分発の普通列車（5258M）に乗り継ぐと、高松駅へ最も早く到着するように乗り継ぐと、高松駅到着時刻は22時08分である。



