

### ③ 国内旅行実務

第1問 次の貸切バスの〔行程〕に関する以下の問1.～問2.の各設問について、該当するものをそれぞれの選択肢から一つ選び、解答用紙にマークしなさい。(地名等については、都道府県の公式ホームページ、百科事典等を参考としている。) (配点 2点×2)

〔行程〕

○日目	新函館北斗駅→トラピスチヌ修道院→ <input type="text" value="①"/> →函館元町地区を散策→函館山→湯の川温泉(泊)
-----	--

問1. 津軽海峡に面し、函館山の南東に突き出たに該当するものは次のうちどれか。

- a. 神威岬                      b. 立待岬                      c. 地球岬                      d. 納沙布岬

問2. 上記行程中にある函館元町地区に関する次の記述のうち、誤っているものはどれか。

- a. 日本初の洋式城郭であった五稜郭がある。  
b. 八幡坂、二十間坂などの道幅の広い坂道がある。  
c. 旧イギリス領事館などの歴史的建造物がある。  
d. 国の重要文化財に指定されている函館ハリストス正教会がある。

第2問 以下の写真に関する問3.～問4.の各設問について、該当するものをそれぞれの選択肢から一つ選び、解答用紙にマークしなさい。(地名等については、都道府県の公式ホームページ、百科事典等を参考としている。) (配点 2点×2)

問3. 通称「山寺」と呼ばれ、松尾芭蕉が奥の細道の紀行の際にこの地を訪れ、「閑さや岩にしみ入る蝉の声」の名句を残した写真の寺院は、次のうちどれか。

〔写真〕



- a. 瑞巖寺                      b. 中尊寺                      c. 毛越寺                      d. 立石寺

問4. 日本の滝 100 選に選ばれた真名井の滝がある写真の観光地は、次のうちどれか。

[写真]



- a. 川上峡                      b. 菊池溪谷                      c. 高千穂峡                      d. 耶馬溪

第3問 以下の問5.～問18.の各設問について、該当するものをそれぞれの選択肢から一つ選び、解答用紙にマークしなさい。(地名等については、都道府県の公式ホームページ、百科事典等を参考としている。) (配点 2点×14)

問5. 次の空欄に該当するものはどれか。

甲府市の北部に位置する[ ]には、覚円峰、天狗岩などの奇岩や仙娥滝などがあり、四季折々で変化に富んだ溪谷美を楽しむことができる。

- a. 清津峡                      b. 香嵐溪                      c. 昇仙峡                      d. 寸又峡

問6. 次の空欄に該当するものはどれか。

今年1150年の節目を迎えた京都三大祭のひとつ祇園祭は[ ]の祭礼で、なかでも、祇園囃子の響く山鉦巡行が祭りの見どころとして知られている。

- a. 上賀茂神社                      b. 下鴨神社                      c. 平安神宮                      d. 八坂神社

問7. 次の空欄に該当するものはどれか。

月の名所として知られる[ ]の公園内には、はるか太平洋の彼方を見つめる坂本龍馬像がある。

- a. 足摺岬                      b. 桂浜                      c. 見残し海岸                      d. 室戸岬

問8. 次の空欄に該当するものはどれか。

現存する日本最古の芝居小屋といわれる[ ]では、旧金毘羅大芝居として歌舞伎公演が行われ、四国路に春を告げる風物詩となっている。

- a. 内子座                      b. 金丸座                      c. 康楽館                      d. 八千代座

問9. 次の空欄に該当するものはどれか。

白神山地とともに日本初の世界自然遺産として登録された[ ]には、標高1,300 mにある縄文杉や、樹齢約3000年の弥生杉などを見ることができる白谷雲水峡がある。

- a. 奄美大島                      b. 種子島                      c. 屋久島                      d. 与論島

問10. 次の空欄に該当するものはどれか。

沖縄の代表的な豚肉料理である[ ]は、いわゆる豚の角煮で、豚の皮付き三枚肉を泡盛や醤油で甘辛く煮たものである。

- a. ジューシー                      b. ヒラヤーチー                      c. ミミガー                      d. ラフテー

問11. 次の下線部a.～d.のうち、誤っているものはどれか。

茨城県の観光地等には、春のネモフィラで知られる a. 国営ひたち海浜公園、国内第2位の面積をもつ湖で夏には観光帆引き船が運航される b. 千波湖、日本三大稲荷神社のひとつといわれる c. 笠間稲荷神社、四度の滝とも呼ばれる d. 袋田の滝などがある。

問12. 次の下線部a.～d.のうち、誤っているものはどれか。

滋賀県の観光地等には、北国街道の宿場として栄え黒壁スクエアのある a. 長浜、宝厳寺と都久夫須麻神社がある琵琶湖の島 b. 竹生島、井伊氏の居城で天守が国宝に指定されている c. 彦根城、紫式部が参籠中に「源氏物語」を起筆したと伝わる d. 三井寺などがある。

問13. 次の観光地等のうち、「古都奈良の文化財」として世界文化遺産に登録されていないものはどれか。

- a. 春日山原始林                      b. 三十三間堂                      c. 東大寺                      d. 平城宮跡

問14. 次の観光地等のうち、「明治日本の産業革命遺産」として世界文化遺産に登録されていないものはどれか。

- a. 旧グラバー住宅                      b. 松下村塾                      c. 葦山反射炉                      d. 門司港駅

問15. 次のうち、西表石垣国立公園に属していない島はどれか。

- a. 伊良部島                      b. 小浜島                      c. 竹富島                      d. 波照間島

問16. 次の観光地等の組合せのうち、同一都道府県にない組合せはどれか。

- a. 三徳山三佛寺投入堂 - 日御碕
- b. 縮景園 - 千光寺公園
- c. 錦帯橋 - 赤間神宮
- d. 備中松山城 - 大原美術館

問17. 次の郷土料理と都道府県との組合せのうち、誤っている組合せはどれか。

- a. 稲庭うどん - 秋田県
- b. 治部煮 - 新潟県
- c. 朴葉みそ - 岐阜県
- d. からしれんこん - 熊本県

問18. 次の伝統行事と観光地等との組合せのうち、同一都道府県のものでない組合せはどれか。

- a. チャグチャグ馬コ - 三内丸山遺跡
- b. 竿燈まつり - なまはげ館
- c. 花笠まつり - 山居倉庫
- d. 相馬野馬追 - 野口英世記念館

第4問 以下の問19.～問20.の各設問について、該当するものをそれぞれの選択肢からすべて選び、解答用紙にマークしなさい。(地名等については、都道府県の公式ホームページ、百科事典等を参考としている。) (配点 2点×2)

問19. 次の観光地等と温泉地との組合せのうち、同一都道府県にある組合せをすべて選びなさい。

- a. 中禅寺湖 - 鬼怒川温泉
- b. 吹割の滝 - 水上温泉
- c. 身延山久遠寺 - 石和温泉

問20. 次の観光地等の組合せのうち、同一都道府県にある組合せをすべて選びなさい。

- a. ムーミンバレーパーク - 長瀨
- b. 博物館明治村 - 三保松原
- c. アドベンチャーワールド - 橋杭岩

第5問 国内航空に関する以下の問21.～問22.の各設問について、該当するものをそれぞれの選択肢から一つ選び、解答用紙にマークしなさい。(配点 5点×2)

問21. 全日空の航空券の取り扱いに関する次の記述のうち、正しいものはどれか。

- a. 「ANA SUPER VALUE」の支払い期限は、予約日を含め2日以内である。
- b. 「ANA VALUE」は、搭乗日の75日前に取り消しをする場合、取消手数料はかからない。
- c. 「ANA FLEX」は、大人用と小児用があり、小児用は大人用の半額である。
- d. 「ANA FLEX」の取消手数料は、予約便出発時刻以降、運賃額の100%である。



第6問 宿泊に関する以下の問23.の設問について、該当するものを選択肢から一つ選び、解答用紙にマークしなさい。(配点 5点×1)

問23. 大人1人の基本宿泊料が1泊2食20,000円(サービス料別・税金別)の鬼怒川温泉の温泉旅館に、大人2人と7歳の子供1人で1泊する場合、宿泊客が支払うべき宿泊料金等の総額で正しいものは次のうちどれか。

※モデル宿泊約款により算出するものとする。

※子供は「子供用食事と寝具」を提供するものとする。

※サービス料は10%とする。

※消費税は8%とする。

※入湯税は1人150円(12歳未満は免除)とする。

※追加料金は発生しないものとする。

a. 基本宿泊料  $20,000 \text{円} \times 2 \text{人} + (20,000 \text{円} \times 50\%) \times 1 \text{人} = 50,000 \text{円}$  ..... ①  
 サービス料  $50,000 \text{円} \times 10\% = 5,000 \text{円}$  ..... ②  
 消費税  $50,000 \text{円} \times 8\% = 4,000 \text{円}$  ..... ③  
 入湯税  $150 \text{円} \times 2 \text{人} = 300 \text{円}$  ..... ④  

$$\text{①} + \text{②} + \text{③} + \text{④} = \boxed{59,300 \text{円}}$$

b. 基本宿泊料  $20,000 \text{円} \times 2 \text{人} + (20,000 \text{円} \times 50\%) \times 1 \text{人} = 50,000 \text{円}$  ..... ①  
 サービス料  $50,000 \text{円} \times 10\% = 5,000 \text{円}$  ..... ②  
 消費税  $(50,000 \text{円} + 5,000 \text{円}) \times 8\% = 4,400 \text{円}$  ..... ③  
 入湯税  $150 \text{円} \times 2 \text{人} = 300 \text{円}$  ..... ④  

$$\text{①} + \text{②} + \text{③} + \text{④} = \boxed{59,700 \text{円}}$$

c. 基本宿泊料  $20,000 \text{円} \times 2 \text{人} + (20,000 \text{円} \times 70\%) \times 1 \text{人} = 54,000 \text{円}$  ..... ①  
 サービス料  $54,000 \text{円} \times 10\% = 5,400 \text{円}$  ..... ②  
 消費税  $54,000 \text{円} \times 8\% = 4,320 \text{円}$  ..... ③  
 入湯税  $150 \text{円} \times 2 \text{人} = 300 \text{円}$  ..... ④  

$$\text{①} + \text{②} + \text{③} + \text{④} = \boxed{64,020 \text{円}}$$

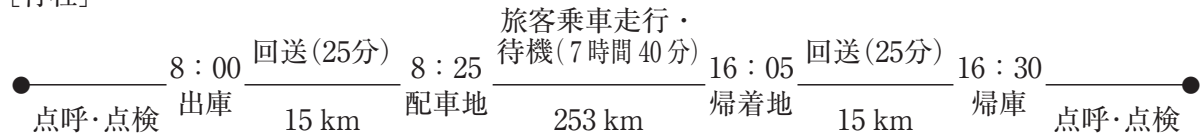
d. 基本宿泊料  $20,000 \text{円} \times 2 \text{人} + (20,000 \text{円} \times 70\%) \times 1 \text{人} = 54,000 \text{円}$  ..... ①  
 サービス料  $54,000 \text{円} \times 10\% = 5,400 \text{円}$  ..... ②  
 消費税  $(54,000 \text{円} + 5,400 \text{円}) \times 8\% = 4,752 \text{円}$  ..... ③  
 入湯税  $150 \text{円} \times 2 \text{人} = 300 \text{円}$  ..... ④  

$$\text{①} + \text{②} + \text{③} + \text{④} = \boxed{64,452 \text{円}}$$

第7問 貸切バスの運送に関する以下の問24.の設問について、該当するものを選択肢から一つ選び、解答用紙にマークしなさい。(配点 5点×1)

問24. 次の行程(日帰り)を標準的装備の大型車の貸切バスで運行するとき、1台あたりの貸切バス運賃の合計額で正しいものは次のうちどれか。

[行程]



※「一般貸切旅客自動車運送事業の運賃・料金の変更命令について(平成26年3月26日付 関東運輸局長公示)」によるものとする。

※運賃は時間・キロ併用制運賃とする。

※時間制運賃(1時間あたり)7,000円とする。

※キロ制運賃(1kmあたり)150円とする。

※運賃の割引、消費税の計算は行わないものとする。

※この行程に係る料金は考慮しないものとする。

- a. 時間制運賃 7,000円×8時間=56,000円 ..... ①  
 キロ制運賃 150円×280km=42,000円 ..... ②  
 ①+②= 98,000円
- b. 時間制運賃 7,000円×9時間=63,000円 ..... ①  
 キロ制運賃 150円×290km=43,500円 ..... ②  
 ①+②= 106,500円
- c. 時間制運賃 7,000円×10時間=70,000円 ..... ①  
 キロ制運賃 150円×280km=42,000円 ..... ②  
 ①+②= 112,000円
- d. 時間制運賃 7,000円×11時間=77,000円 ..... ①  
 キロ制運賃 150円×290km=43,500円 ..... ②  
 ①+②= 120,500円



第8問 フェリーの運送に関する以下の問25.の設問について、該当するものを選択肢から一つ選び、解答用紙にマークしなさい。(配点 5点×1)

問25. 大人2人(自動車の運転者1人を含む)と、8歳の小学生と4歳の子供の計4人が、自動車1台(車長4m以上5m未満)でフェリーの2等寝台A(指定制)を4席利用して片道で乗船する場合、旅客が支払うべき運賃の総額で正しいものは次のうちどれか。

※海上運送法第9条第3項の規定に基づく標準運送約款によるものとする。

※旅客運賃(片道)は下記の通りとする。

2等寝台A 大人1人 7,500円、小児1人 3,750円

2等 大人1人 5,000円、小児1人 2,500円

※自動車航送運賃(片道)は、1台25,000円(車長4m以上5m未満)とする。

a.  $7,500 \text{円} \times 1 \text{人} + 3,750 \text{円} \times 1 \text{人} + 25,000 \text{円} = 36,250 \text{円}$  36,250円

b.  $7,500 \text{円} \times 1 \text{人} + (7,500 \text{円} - 5,000 \text{円}) \times 1 \text{人} + 3,750 \text{円} \times 1 \text{人} + 25,000 \text{円} = 38,750 \text{円}$  38,750円

c.  $7,500 \text{円} \times 1 \text{人} + 3,750 \text{円} \times 2 \text{人} + 25,000 \text{円} = 40,000 \text{円}$  40,000円

d.  $7,500 \text{円} \times 1 \text{人} + (7,500 \text{円} - 5,000 \text{円}) \times 1 \text{人} + 3,750 \text{円} \times 2 \text{人} + 25,000 \text{円} = 42,500 \text{円}$  42,500円

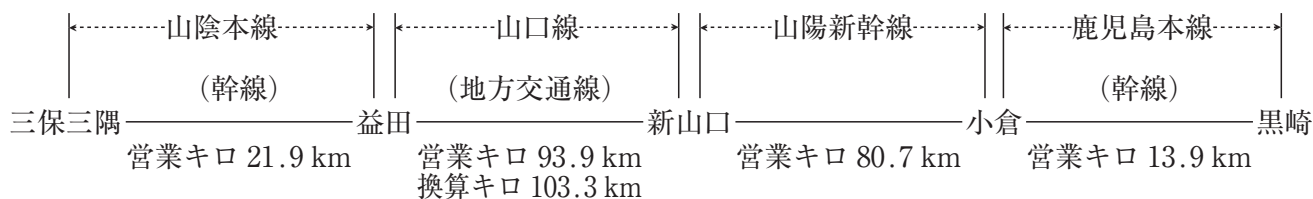
第9問 旅客鉄道（JR）に関する以下の問26.～問32.の各設問について、該当するものをそれぞれの選択肢から一つ選び、解答用紙にマークしなさい。（配点 5点×7）

問26. 乗車券類の取扱いに関する次の記述のうち、正しいものはどれか。

- a. 12歳の小学生が5歳と4歳の幼児を随伴する場合、小児2人分の乗車券が必要である。
- b. 大人の普通回数乗車券1枚で小児2人が利用することができる。
- c. 大人1人が3歳の幼児1人を随伴して特急列車の普通車自由席を利用する場合、幼児については、運賃は不要で、小児の特急料金が必要である。
- d. 大人3人と7歳の小児1人が特急列車の4人用グリーン個室1室を利用する場合、大人3人分と小児1人分の運賃、大人4人分の特急料金、個室1室分の4人用グリーン個室料金が必要である。

問27. 以下の行程を大人1人が、途中下車しないで乗車する場合、大人片道普通運賃で正しいものは次のうちどれか。

[行程]



※黒崎は北九州市内に属する駅である。

【本州内 J R 3 社の幹線用普通運賃表】(抜粋)

営業キロ (運賃計算キロ)	片道運賃
21 ~ 25 km	410 円
81 ~ 90 km	1,490 円
201 ~ 220 km	3,670 円

【本州内 J R 3 社の地方交通線用普通運賃表】(抜粋)

営業キロ	片道運賃
92 ~ 100 km	1,850 円

【J R 九州内の普通運賃表】(抜粋)

営業キロ (運賃計算キロ又は擬制キロ)	片道運賃
11 ~ 15 km	280 円

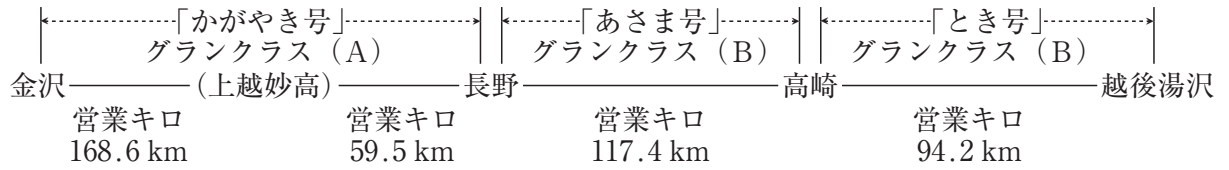
【J R 九州内の加算額表】(抜粋)

境界駅からの 営業キロ(運賃計算キロ)	加算額
11 ~ 15 km	40 円

- a.  $21.9 \text{ km} + 103.3 \text{ km} + 80.7 \text{ km} = 205.9 \text{ km}$  ..... 3,670 円 3,670 円
- b.  $21.9 \text{ km} + 103.3 \text{ km} + 80.7 \text{ km} + 13.9 \text{ km} = 219.8 \text{ km}$  ..... 3,670 円  
 $3,670 \text{ 円} + 40 \text{ 円} = 3,710 \text{ 円}$  3,710 円
- c.  $21.9 \text{ km} + 103.3 \text{ km} + 80.7 \text{ km} = 205.9 \text{ km}$  ..... 3,670 円  
 $3,670 \text{ 円} + 280 \text{ 円} + 40 \text{ 円} = 3,990 \text{ 円}$  3,990 円
- d.  $410 \text{ 円} + 1,850 \text{ 円} + 1,490 \text{ 円} + 280 \text{ 円} = 4,030 \text{ 円}$  4,030 円

問28. 以下の行程を大人1人が、通常期に新幹線の改札口を出ないで乗り継ぐ場合、グランクラス料方で正しいものは次のうちどれか。

[行程]



【J R 東日本内相互発着区間及び J R 西日本内の北陸新幹線（上越妙高～金沢間相互発着区間）のグランクラス料金】（抜粋）

営業キロ	100 km まで	200 km まで	300 km まで	700 km まで
グランクラス料金 (A)	6,170 円	7,200 円	8,230 円	9,250 円
グランクラス料金 (B)	4,120 円	5,150 円	6,180 円	7,200 円

a.  $(9,250 \text{ 円} - 1,030 \text{ 円}) + (4,120 \text{ 円} - 1,030 \text{ 円}) = 11,310 \text{ 円}$  11,310 円

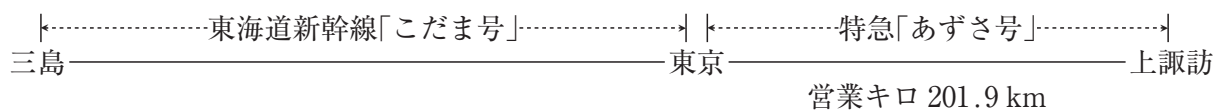
b.  $(7,200 \text{ 円} - 1,030 \text{ 円}) + (8,230 \text{ 円} - 1,030 \text{ 円}) = 13,370 \text{ 円}$  13,370 円

c.  $(7,200 \text{ 円} - 1,030 \text{ 円}) + (7,200 \text{ 円} - 1,030 \text{ 円}) + (4,120 \text{ 円} - 1,030 \text{ 円}) = 15,430 \text{ 円}$  15,430 円

d.  $(7,200 \text{ 円} - 1,030 \text{ 円}) + (7,200 \text{ 円} - 1,030 \text{ 円}) + 4,120 \text{ 円} = 16,460 \text{ 円}$  16,460 円

問29. 以下の行程を大人1人が、特急券を事前に購入のうえ、繁忙期に普通車指定席を利用して同日中に乗り継ぐ場合、三島～上諏訪間の特急料金で正しいものは次のうちどれか。

[行程]



【東海道新幹線「ひかり・こだま号」の指定席特急料金（通常期）】（抜粋）

三島	
2,250円	東京

【JR東日本の「あずさ号」の特急料金】（抜粋）

営業キロ	200 km まで	300 km まで
特急料金 (事前料金)	(略)	2,500円

- a.  $2,500 \text{円} \div 2 = 1,250 \text{円}$   
 $2,250 \text{円} + 200 \text{円} + 1,250 \text{円} = 3,700 \text{円}$  3,700円
- b.  $(2,500 \text{円} + 200 \text{円}) \div 2 = 1,350 \text{円}$   
 $2,250 \text{円} + 200 \text{円} + 1,350 \text{円} = 3,800 \text{円}$  3,800円
- c.  $2,250 \text{円} + 200 \text{円} + 2,500 \text{円} = 4,950 \text{円}$  4,950円
- d.  $2,250 \text{円} + 200 \text{円} + 2,500 \text{円} + 200 \text{円} = 5,150 \text{円}$  5,150円

問30. 以下の列車を同日中に乗り継ぐ場合、下線を付した列車に乗継割引が適用されるものは次のうちどれか。

a. 仙台——<sup>新幹線「はやぶさ号」</sup>——新函館北斗——<sup>普通列車</sup>——函館——特急「スーパー北斗号」——札幌

b. 東京——<sup>新幹線「かがやき号」</sup>——富山——特急「(ワイドビュー)ひだ号」——高山

c. 静岡——<sup>寝台特急「サンライズ瀬戸号」</sup>——岡山——特急「南風号」——高知

d. 熊本——<sup>新幹線「みずほ号」</sup>——岡山——<sup>快速「マリンライナー号」</sup>——高松——特急「うずしお号」——徳島

問31. 乗車券類の払いもどしに関する次の記述のうち、誤っているものはどれか。

- a. 普通回数乗車券は全券片未使用の場合に限り、有効期間内であれば、発売額から払いもどし手数料 220 円を差し引いて払いもどしができる。
- b. 旅行開始前の往復乗車券を、有効期間内に払いもどす場合の払いもどし手数料は 220 円である。
- c. 小児の指定席特急券を、列車出発日の 2 日前に払いもどす場合の払いもどし手数料は 330 円である。
- d. 特急「成田エクスプレス号」の座席未指定券を、券面に表示された乗車日の前日に払いもどす場合の払いもどし手数料は 330 円である。

問32. 交通新聞社発行JR時刻表（2019年7月号より抜粋）に関する次の記述のうち、正しいものはどれか。

- a. 土曜日に辰野駅を7時47分発の快速「みすず号」に乗車し、東京駅へ最も早く到着するように乗り継ぐと、東京駅到着時刻は11時33分である。
- b. 松本駅を8時00分発の特急「あずさ6号」に乗車し、大月駅へ最も早く到着するように乗り継ぐと、大月駅到着時刻は9時56分である。
- c. 特急「かいじ6号」の普通車には指定席と自由席がある。
- d. 特急「あずさ8号」は辰野駅を通過する。



交通新聞社発行 JR 時刻表 (2019年7月号より抜粋)

上り 中央本線(松本—東京)(その2)

列車番号	2209M	5006M	534M	3106M	430M	536M	1522M	3520M	211M	154M	1524M	5008M
列車名	快速 みすず	特急 あずさ 6号		特急 かいじ 6号								特急 あずさ 8号
前の掲載頁					208		558	209				
長野	発	..	..	..	..	..	..	631	..	..	..	..
松本	発	800	..	..	736	749	802	..	..	810	840	..
松平	発	..	..	..	739	752	805	..	..	814	..	..
平村	発	..	..	..	742	755	808	..	..	816	..	..
塩尻	発	..	..	..	745	758	811	..	..	819	..	..
みどり	着	..	..	..	749	801	814	..	..	822	..	..
小濃	着	..	..	..	753	805	817	..	..	826	849	..
辰野	着	..	..	..	755	..	818	..	823	828	849	..
川谷	着	..	..	..	759	..	822	..	834	839	..	..
諏訪	着	..	..	..	747	..	822	..	834	839	..	..
上野	着	..	..	..	754	..	828	..	843	843	..	..
茅野	着	..	..	..	759	..	832	..	839	843	..	..
青森	着	..	..	..	808	..	833	..	842	847	857	..
富士	着	..	..	..	810	..	837	..	847	852	904	..
信濃	着	..	..	..	815	..	842	..	852	852	905	..
小淵沢	着	..	..	..	816	..	843	..	852	852	910	..
坂本	着	..	..	..	834	..	843	..	852	852	910	..
春日	着	..	..	..	841	..	843	..	852	852	910	..
山崎	着	..	..	..	844	..	843	..	852	852	910	..
塩尻	着	..	..	..	848	..	843	..	852	852	910	..
大淵	着	..	..	..	853	..	843	..	852	852	910	..
野	着	..	..	..	857	..	843	..	852	852	910	..
新塩尻	着	..	..	..	858	..	843	..	852	852	910	..
塩尻	着	..	..	..	905	..	843	..	852	852	910	..
塩尻	着	..	..	..	911	..	843	..	852	852	910	..
塩尻	着	..	..	..	915	..	843	..	852	852	910	..
塩尻	着	..	..	..	919	..	843	..	852	852	910	..
塩尻	着	..	..	..	923	..	843	..	852	852	910	..
塩尻	着	..	..	..	928	..	843	..	852	852	910	..
塩尻	着	..	..	..	932	..	843	..	852	852	910	..
塩尻	着	..	..	..	937	..	843	..	852	852	910	..
甲府	着	903	..	..	924	940	..	..	..	..	946	..
折居	着	904	..	..	924	944	..	..	..	..	947	..
温泉	着	..	..	..	929	947	..	..	..	..	..	..
山梨	着	..	..	..	927	950	..	..	..	..	..	..
山梨	着	..	..	..	937	1000	..	..	..	..	..	..
山梨	着	..	..	..	941	1003	..	..	..	..	..	..
山梨	着	..	..	..	944	1007	..	..	..	..	..	..
山梨	着	..	..	..	949	1011	..	..	..	..	..	..
山梨	着	..	..	..	955	1017	..	..	..	..	..	..
山梨	着	..	..	..	1000	1022	..	..	..	..	..	..
山梨	着	..	..	..	1006	1029	..	..	..	..	..	..
山梨	着	..	..	..	1012	1034	..	..	..	..	..	..
大月	着	..	..	..	957	1035	..	..	..	..	..	..
大月	着	..	..	..	1020	1038	..	..	..	..	..	..
大月	着	..	..	..	1023	1042	..	..	..	..	..	..
大月	着	..	..	..	1027	1045	..	..	..	..	..	..
大月	着	..	..	..	1030	1048	..	..	..	..	..	..
大月	着	..	..	..	1034	1051	..	..	..	..	..	..
大月	着	..	..	..	1039	1054	..	..	..	..	..	..
大月	着	..	..	..	1043	1057	..	..	..	..	..	..
大月	着	..	..	..	1047	1060	..	..	..	..	..	..
大月	着	..	..	..	1055	1063	..	..	..	..	..	..
大月	着	..	..	..	1059	1067	..	..	..	..	..	..
大月	着	..	..	..	1063	1070	..	..	..	..	..	..
大月	着	..	..	..	1067	1074	..	..	..	..	..	..
大月	着	..	..	..	1071	1078	..	..	..	..	..	..
大月	着	..	..	..	1075	1082	..	..	..	..	..	..
大月	着	..	..	..	1079	1086	..	..	..	..	..	..
大月	着	..	..	..	1083	1090	..	..	..	..	..	..
大月	着	..	..	..	1087	1094	..	..	..	..	..	..
大月	着	..	..	..	1091	1098	..	..	..	..	..	..
大月	着	..	..	..	1095	1102	..	..	..	..	..	..
大月	着	..	..	..	1099	1106	..	..	..	..	..	..
大月	着	..	..	..	1103	1110	..	..	..	..	..	..
大月	着	..	..	..	1107	1114	..	..	..	..	..	..
大月	着	..	..	..	1111	1120	..	..	..	..	..	..
大月	着	..	..	..	1115	1124	..	..	..	..	..	..
大月	着	..	..	..	1119	1128	..	..	..	..	..	..
大月	着	..	..	..	1123	1132	..	..	..	..	..	..
大月	着	..	..	..	1127	1136	..	..	..	..	..	..
大月	着	..	..	..	1131	1140	..	..	..	..	..	..
新宿	着	7	..	..	10	..	..	..	..	..	..	7
東京	着	1045	..	..	..	..	..	..	..	..	..	1132